

TALLER CAPÍTULO 1: HISTORIA UNIVERSAL



A continuación encontrarás los periodos de la "Era Geológica" de la tierra; cada palabra debe ir coloreada de forma diferente.

ERAS GEOLOGICAS

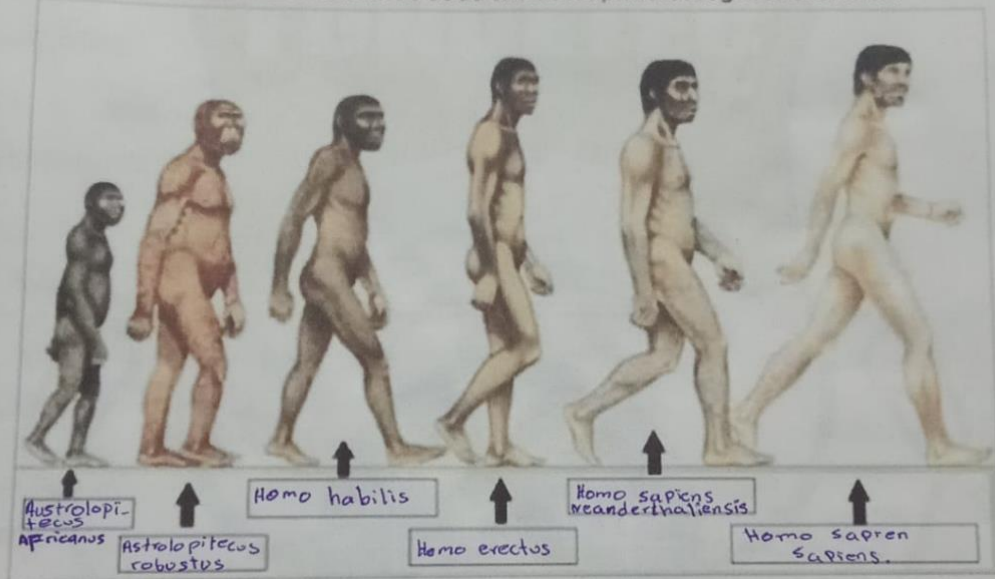
Z	F	O	D	Y	M	X	C	N	K	G	Q	Q	L	S	I	F	M	I	J
B	G	N	X	S	B	T	A	R	C	U	N	S	B	I	E	S	G	Z	M
Q	M	E	I	H	I	V	O	N	I	M	A	O	K	L	B	C	D	E	N
V	N	C	B	E	J	W	N	N	P	P	L	B	G	V	J	D	J	Q	M
Q	L	O	X	K	V	N	O	P	E	I	T	Z	G	R	W	U	Q	T	A
A	A	J	C	D	L	A	T	C	C	X	O	C	I	B	A	O	Z	H	
O	T	L	R	F	Q	K	Z	O	I	H	O	A	Z	C	A	C	Q	D	N
C	G	P	E	X	A	R	C	P	X	R	R	E	I	O	E	A	E	M	U
I	Z	H	T	I	G	E	V	F	L	B	D	Q	L	N	I	V	R	D	U
C	K	A	A	O	N	W	C	C	O	R	Z	M	D	A	O	C	P	X	K
I	N	A	C	O	N	E	U	N	F	Z	M	L	A	N	P	M	O	X	G
V	B	Q	I	C	V	E	I	V	L	U	P	I	I	C	Y	Y	Y	O	Z
O	D	H	C	V	T	F	C	P	V	E	Z	C	C	I	E	H	M	C	O
D	D	R	O	U	E	T	J	O	J	Q	O	M	A	O	C	R	Z	I	C
R	M	X	C	R	I	P	G	B	S	Q	K	T	U	J	Q	Q	P	S	I
O	W	B	O	E	Q	I	Q	S	P	S	M	O	A	T	I	V	J	A	R
H	L	O	N	E	C	O	L	O	H	Y	I	T	L	V	X	N	R	I	B
R	U	F	O	C	I	S	A	R	U	J	O	E	F	F	O	O	P	R	M
G	K	U	R	H	H	M	D	T	O	D	D	S	L	D	B	Y	A	T	A
J	U	O	N	E	C	O	E	J	R	Z	H	K	M	P	W	E	X	Y	C

- CAMBRICO
- CARBONIFERO
- CRETACICO
- CRUPTOZOICO
- DEVONICO
- EOCENO
- HOLOCENO
- JURASICO
- MIOCENO
- PLEISTOCENO
- ORDOVIEICO
- PALEOCENO
- PERMICO
- PLEISTOCENO
- PLIOCENO
- PRECAMBRICO
- TRIASICO



TALLER CAPÍTULO 1: HISTORIA UNIVERSAL

2. Coloca en el cuadro el nombre de cada uno de los primates según su evolución.



3. ¿Cuáles son algunas de las características de los primates llamados Australopithecus.

4. ¿Crees en este proceso evolutivo del hombre? ¿Por qué?

TALLER CAPÍTULO 2: PLANETA TIERRA

I. Define los siguientes términos:

- ESTRELLA: Cuerpos celestes compuestos principalmente por hidrógeno y helio, que producen luz y calor desde sus fundiciones nucleares.
- ASTEROIDE: Cuerpos menores, rocosos que orbitan alrededor del sol a distancias inferiores a las de neptuno.
- METEORITO: Fragmento de un cuerpo celeste que cae sobre la tierra, o sobre un astro cualquiera.
- GALAXIA: Conjunto enorme de estrellas, polvo interestelar, gases y partículas, que constituyen un sistema autónomo dentro del universo.
- ROTACIÓN: Movimiento de un cuerpo alrededor de su eje.
- ÓRBITA: Trayectoria que describe un cuerpo en su movimiento alrededor de un centro.
- SATELITE: Cuerpo celeste opaco que solo brilla por la luz refleja del sol y gira alrededor de un planeta.
- EQUINOCCIO: Cada uno de los 2 momentos anuales en que por hallarse el sol sobre el ecuador, la duración del día y la noche es la misma en toda la tierra.
- HUSO HORARIO: Consiste en dividir la superficie de la tierra en 24 franjas; para que cada una de ellas corresponda a una hora del día.

TALLER CAPÍTULO 2: PLANETA TIERRA

2. Completa las siguientes frases:

- Las galaxias son las agrupaciones de estrellas que forman el universo.
- El sol es la estrella del Sistema Solar y está rodeado por planetas.
- La galaxia en la que se encuentra la Tierra se llama: Vía Láctea.
- Las estrellas se forman a partir de nubes de gas y de polvo.

3. Relaciona los astros del Sistema Solar con sus características:

- | | |
|---------------|--|
| * Sol: | → Tienen una gran cola brillante |
| * Satélites: | → Emiten luz y calor |
| * Asteroides: | → Giran alrededor del Sol |
| * Cometas: | → Giran alrededor de un planeta |
| * Planetas: | → Forman un cinturón entre Marte y Júpiter |

4. Contesta a las siguientes preguntas seleccionando la respuesta correcta:

1. ¿Cuántas fases tiene la Luna?

- a. Ocho
- ☒ b. Cuatro ✓
- c. Seis

2. ¿Cuál de estas fases no pertenece al ciclo lunar?

- ☒ a. Luna vieja. ✓
- b. Luna nueva.
- c. Cuarto menguante.

3. El mes lunar tiene...

- a. Veinticuatro días.
- b. Veinte días.
- ☒ c. Veintiocho días. ✓

4. La luz de la Luna se debe a...

- a. El reflejo de la luz de la Tierra.
- b. El reflejo de la luz de un asteroide.
- ☒ c. El reflejo de la luz del Sol. ✓

5. ¿Qué son los asteroides?

- a. Son estrellas fugaces.
- b. Son cuerpos compuestos de hielo.
- ☒ c. Son astros rocosos, más pequeños que los planetas, cuya órbita se sitúa entre Marte y Júpiter. ✓

6. ¿Cuáles son los planetas gaseosos?

- a. La Tierra, Venus y Júpiter.
- ☒ b. Júpiter, Saturno, Urano y Neptuno. ✓
- c. Solo Saturno.

TALLER CAPÍTULO 2: PLANETA TIERRA

7. ¿Qué diferencia hay entre un planeta y una estrella?

- a. La estrella es más grande.
- b. El planeta es el que proporciona el combustible a la estrella.
- ☒ c. La estrella emite luz propia. ✓

8. ¿Cuál es el planeta más alejado del Sol?

- a. Plutón.
- b. No se puede saber con exactitud.
- ☒ c. En la actualidad Neptuno. ✓

9. ¿En qué planeta dura más el día?

- a. Neptuno.
- b. Mercurio.
- ☒ c. Venus. ✓

10. ¿En qué planeta hace más calor?

- ☒ a. En Venus. ✓
- b. En Mercurio.
- c. En la Tierra.

8. ¿Qué planeta es el más grande?

- a. La Tierra.
- ☒ b. Júpiter. ✓
- c. Saturno.

9. ¿Qué planeta tiene la montaña más alta del Sistema Solar?

- a. La Tierra. Es el Everest.
- ☒ b. Marte. ✓
- c. La Luna.

10. ¿Qué planeta tarda menos en dar una vuelta entera alrededor del Sol?

- a. La Tierra.
- b. Marte.
- ☒ c. Mercurio. ✓

TALLER CAPITULO 2: PLANETA TIERRA

11. Coloca el nombre según corresponda.



1. Mercurio
2. venus
3. Tierra
4. Marte
5. Jupiter
6. Saturno
7. Urano
8. Neptuno

TALLER CAPITULO 3: LOS CONTINENTES

1. Coloree el mapamundi y ubique en él los continentes, océanos y mares

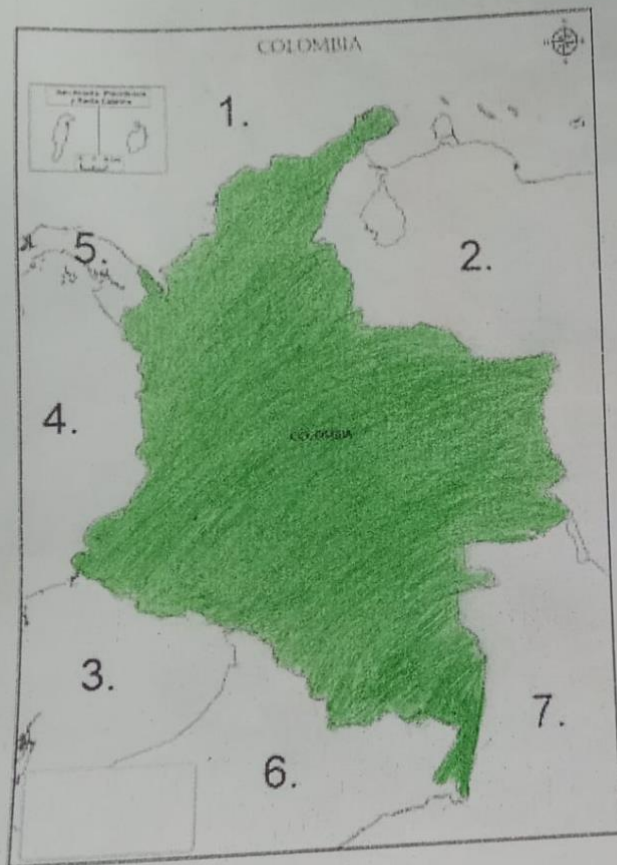


ree el mapa político de América ubicando los países con sus resp



TALLER CAPITULO 4: COLOMBIA

3. coloca los nombres de los límites de Colombia según corresponda.



1. Mar caribe
2. venezuela
3. Ecuador
4. Oceano pacifico
5. Panama
6. Peru
7. Brasil

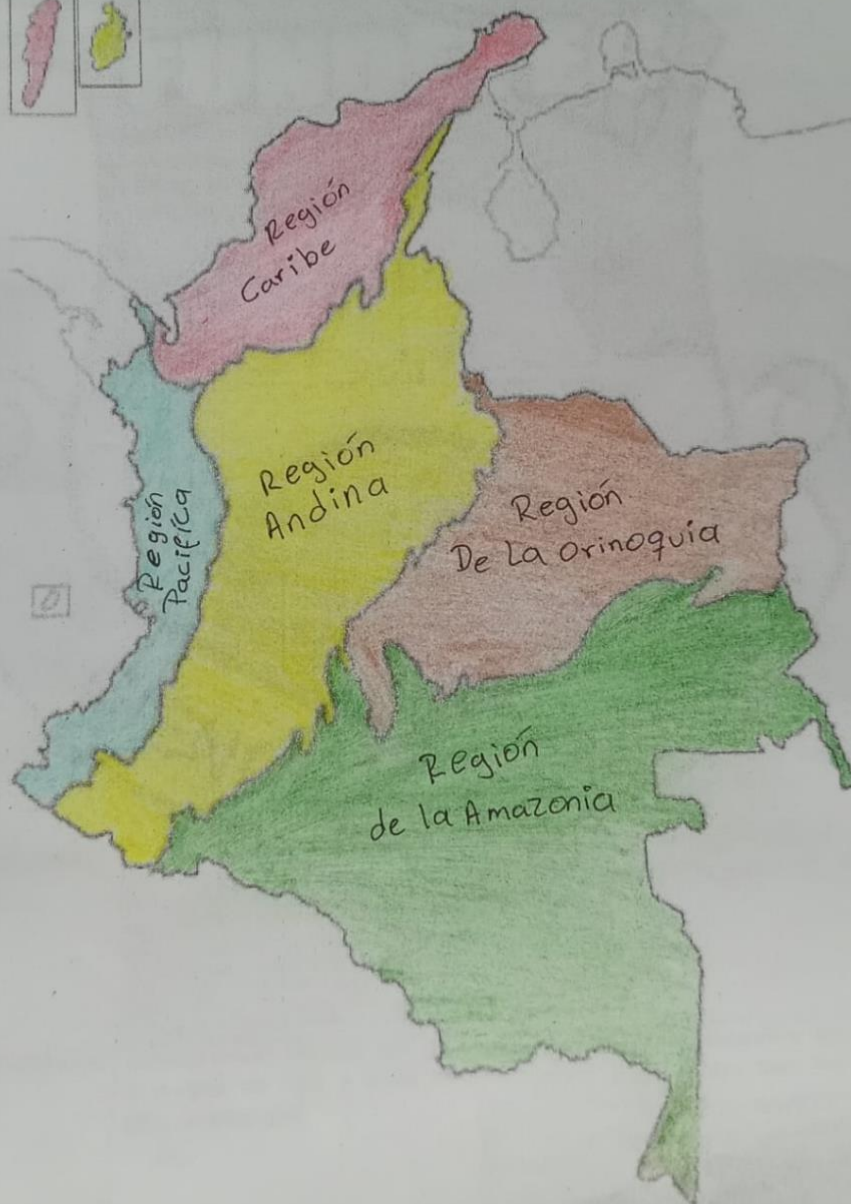
UNDETECTED

MAPA POLÍTICO DE COLOMBIA



TALLER CAPÍTULO 6: REGIONES NATURALES DE COLOMBIA

1. Colorea el mapa de Colombia, ubicando cada una de las regiones naturales.



TALLER CAPÍTULO 6: REGIONES NATURALES DE COLOMBIA

2. Colombia posee seis regiones naturales con gran diversidad en el aspecto físico o relieve y economía. Completa en el cuaderno el siguiente cuadro con estos dos aspectos

REGIÓN NATURAL	ASPECTO FÍSICO O RELIEVE	ASPECTO ECONÓMICO
REG. CARIBE	Extensa llanura costera, con desierto al norte. En el relieve montañoso se destaca la Sierra nevada de Santa Marta y algunas serranías, clima tropical de sabana	Se destacan la ganadería, la agricultura, la minería, el turismo y el transporte marítimo.
REG. ANDINA	Es Montañosa, está formado por 3 cordilleras: Oriental, las serranías de Perijá, los molinos, Cordillera Central; la Serranía de San Lucas. Cordillera Occidental: las serranías de Abibe, San Jerónimo y Ajapel.	Agricultura de frutas, flores, café, caña de azúcar, cacao, cereales y tubérculos, y ganadería de carne y leche. Se encuentran las principales industrias del país: de alimentos, minerales, textil y petroquímica.
REG. INSULAR	Se ubica en una plataforma continental con numerosas cabeceras de montañas que se extienden desde la costa hasta el interior del país. Estas montañas se caracterizan por tener elevaciones y valles que contribuyen a la formación de los principales ríos de la región.	Actividades económicas son el turismo y la pesca.
REG. ORINOQUÍA	Se compone de amplias llanuras y sabanas. La típica de esta zona se encuentra el venado sabanero, el chigüire, la caracura roja, el mono cotudo, el tigre, la anaconda, el caimán del orinoco y la vivora y narices.	Tradicionalmente su economía giró en torno a la ganadería extensiva, pero en las últimas décadas, su modelo económico se amplió a la explotación de petróleo y al monocultivo de la palma de aceite principalmente.
REG. PACÍFICA	Se caracteriza por ser un relieve casi plano formado por grandes llanuras de inundación, lagos y pantanos alineados paralelamente a la costa. Los recursos geológicos permanecen aún desconocidos, pero se considera que tiene grandes reservas de sal inexploradas.	La minería, pesca, explotación forestal. La agricultura y la ganadería se practican para el autoconsumo.
REG. AMAZÓNICA	Extensa llanura selvática, con gran diversidad de flora y fauna con altas temperaturas.	La economía amazónica en general está dominada por la agricultura, actividades pecuarias, la pesca, la explotación forestal y la minería.

TALLER CAPÍTULO 6: REGIONES NATURALES DE COLOMBIA

3. RESPONDA LAS SIGUIENTES PREGUNTAS DE SELECCIÓN MÚLTIPLE CON ÚNICA RESPUESTA

a) Las regiones naturales de Colombia, presentan diversidad de riquezas, tales como el parque natural La Sierra de la Macarena, relieve aislado en esta inmensa llanura, (donde se ubica Caño Cristales) que ha sido declarado reserva nacional, además de los pozos petroleros Cusiana y Caño Limón de acuerdo al texto estamos haciendo referencia a la región:

- A. caribe e insular
- B. pacífica
- ☒ C. orinoquía ✓
- D. andina

b) El turismo es una fuente económica para la región caribe, sin embargo esta tiene que completarse con otras actividades porque:

- A. el turismo deja pocas ganancias para sus habitantes.
- ☒ B. hay épocas del año llamadas de temporada baja con pocos turistas. ✓
- C. los turistas gastan poco dinero y no es suficiente para las ciudades costeras.
- D. es probable que el turismo se acabe porque hay sitios más llamativos.

c) Cada una de las regiones naturales de Colombia está conformada por departamentos, los siguientes pertenecen a la región Andina

- A. Guajira, Córdoba, Cesar, Atlántico
- B. Amazonas, Putumayo, Caquetá, Guaviare
- C. Huila, Antioquia, Meta, Chocó
- ☒ D. Santander, Huila, Tolima, Boyacá. ✓

d) Las distintas formas del relieve colombiano, permiten que nuestro país tenga diversidad de climas y que los páramos en las altas montañas sean fábricas de agua, algunos de los más importantes son el páramo de Sumapaz y la Sierra Nevada del Cocuy que se encuentran ubicadas en la región:

- A. caribe ✓
- ☒ B. andina ✓
- C. amazonia
- D. pacífica

TALLER CAPÍTULO 6: REGIONES NATURALES DE COLOMBIA

e) Las minas de carbón, en el Cerrejón y sal en Manaure ubicadas en la alta Guajira (región caribe) aportan gran riqueza económica y proporcionan empleo para la población, con lo anterior se deduce que:

- ☒ A. en Colombia la economía se favorece por las minas de carbón
- ☐ B. que las minas de carbón generan desplazamiento de población
- ☐ C. que un país que no cuente con riquezas en minas es pobre.
- ☐ D. que un país necesita sólo de riqueza minera para su desarrollo.

4. Investiga y completa el siguiente cuadro ubicando las regiones donde están localizadas cada una de las comunidades indígenas que existen en la actualidad en el país. Escribe tres comunidades en cada región:

REGIÓN GEOGRÁFICA	COMUNIDADES INDÍGENAS QUE LA HABITAN
Caribe	Arhuaco Chimila Mocana
Pacífica	Los choco Los Embera Los Wayuu y los Kuna.
Andina	Quechua Aymara guaraní
Orinoquía	Kuiba Sikani Salivas
Amazonia	Ticunas Bora Yagua, Huitoto
Insular	Yacuna Tanimuaca Macuna

TALLER CAPÍTULO

INVESTIGA

1. Es una característica del siglo XX:
 - a. El feudalismo
 - b. El desbalance europeo
 - c. El absolutismo
 - d. La globalización. ✓
2. Cual fue el escenario y el periodo que abarco la primera guerra mundial.
 - a. África 2000-2010
 - b. Oceanía 1800- 1804
 - c. Europa 1914-1918 ✓
 - d. América 1987-1900
3. Es una consecuencia de la primera guerra mundial...
 - a. Se dio la nacionalización de vehículos.
 - b. Se creó la carrera Armentista. ✓
 - c. Desaparecieron los imperios alemanes austrohúngaro; Imperio otomano y ruso.
 - d. Desaparecieron los imperios españoles.
4. Doctrina política y económica que propugna la propiedad y la administración de los medios de producción por parte de las clases trabajadoras con el fin de lograr una organización de la sociedad en la cual exista una igualdad política, social y económica de todas las personas.
 - a. Socialismo ✓
 - b. Absolutismo
 - c. Capitalismo
 - d. Presidencialismo
5. Cuando se llevó a cabo la Revolución Rusa:
 - a. 1917 ✓
 - b. 1942
 - c. 1936
 - d. 1918