



A continuación encontrarás los períodos de la "Era Geológica" de la tierra; cada palabra ir coloreada de forma diferente.

ERAS GEOLOGICAS

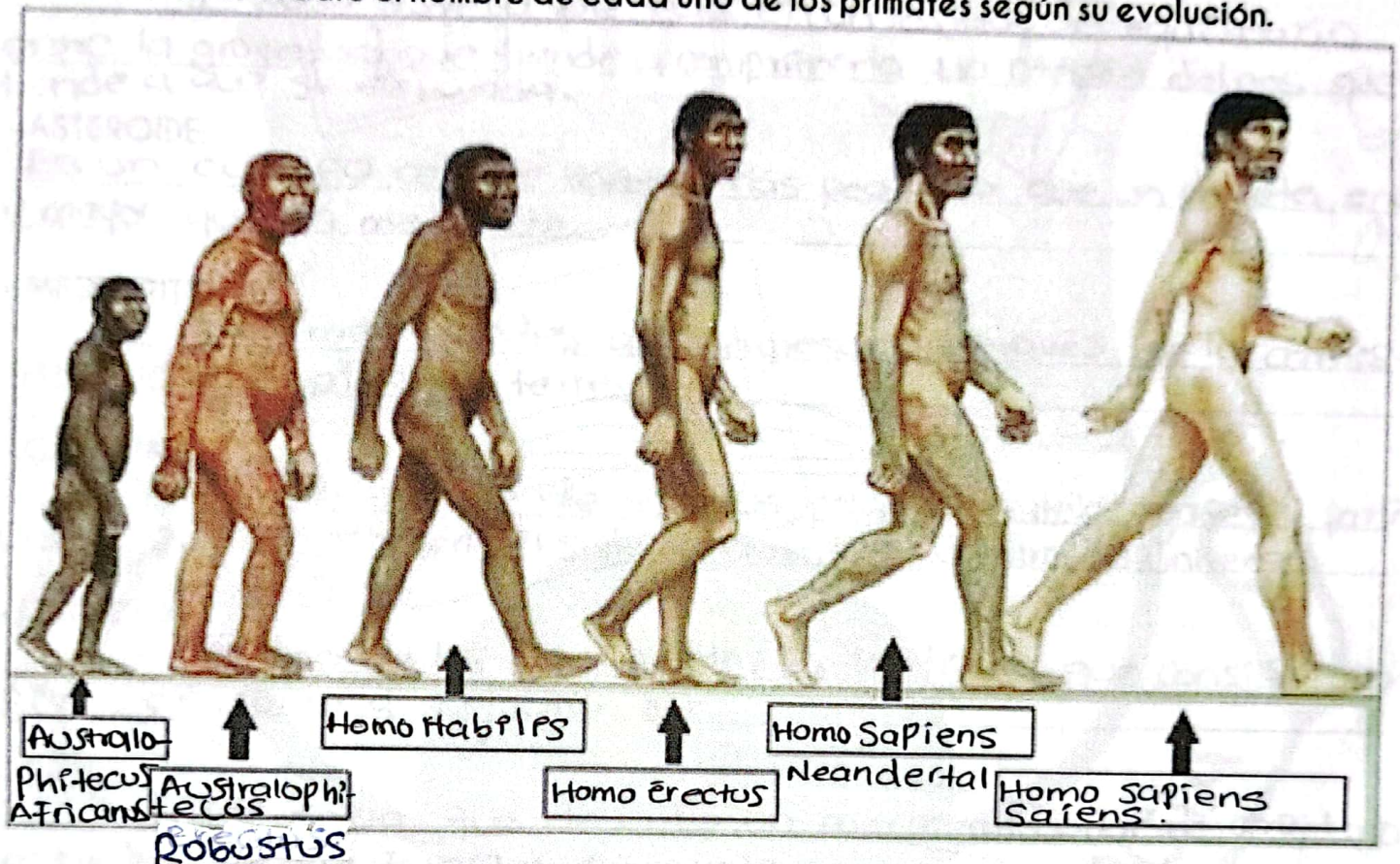
Z	F	O	D	Y	M	X	C	N	K	G	Q	Q	L	S	I	F	M	I	J
B	G	N	X	S	B	T	A	R	C	U	N	S	B	I	E	S	G	Z	M
Q	M	E	I	H	I	V	O	N	I	M	A	O	K	L	B	C	D	E	N
V	N	C	B	E	J	W	N	N	P	P	L	B	G	U	J	D	J	Q	M
Q	L	O	X	K	V	N	O	P	E	I	T	Z	G	R	W	U	Q	I	A
A	A	I	C	D	L	A	T	C	G	C	X	O	C	I	B	A	O	Z	H
O	T	L	R	F	Q	K	Z	O	I	H	O	A	Z	C	A	C	Q	B	N
C	G	P	E	X	A	R	C	P	X	R	R	E	I	O	E	A	E	M	U
I	Z	H	T	I	G	E	V	F	E	B	B	Q	L	N	I	V	R	D	U
C	K	A	A	O	N	W	C	C	O	R	Z	M	O	A	O	C	P	X	K
I	N	A	C	O	N	E	U	N	F	Z	M	L	A	N	P	M	O	X	G
V	B	Q	I	C	V	E	I	V	L	U	P	I	I	C	Y	Y	Y	O	Z
O	D	H	C	V	T	F	C	P	V	E	Z	C	C	I	E	H	M	C	O
D	D	R	O	U	E	T	J	O	J	Q	O	M	A	O	C	R	Z	I	C
R	M	X	C	R	I	P	G	B	T	G	K	T	U	J	Q	Q	P	S	I
O	W	B	O	E	Q	I	Q	S	P	S	M	O	A	T	I	V	J	A	R
H	L	O	N	E	C	O	L	O	H	Y	I	T	L	V	X	N	R	I	B
R	U	F	O	C	I	S	A	R	U	J	O	E	F	F	O	O	P	R	M
G	K	U	R	H	H	M	D	T	O	D	D	S	L	D	B	Y	A	T	A
J	U	O	N	E	C	O	E	J	R	Z	H	K	M	P	W	E	X	Y	C



CAMBRICO
CARBONIFERO
CRETACICO
CRPTOZOICO
DEVONICO
EOCENO
HOLOCENO
JURASICO
MIOCENO
OLIGOCENO
ORDOVICICO
PALEOCENO
PERMICO
PLEISTOCENO
PLIOCENO
PRECAMBRICO
SILURICO
TRIASICO

TALLER CAPÍTULO 1: HISTORIA UNIVERSAL

2. Coloca en el cuadro el nombre de cada uno de los primates según su evolución.



3. ¿Cuáles son algunas de las características de los primates llamados Australopithecus.

4. ¿Crees en este proceso evolutivo del hombre? ¿Por qué?

③ Los Australopithecus eran bípedas, andaban erguidas sobre las extremidades inferiores. Tenían un cerebro pequeño entre 430 y 550 cm³, semejante al de un chimpancé actual.

④ No creo. por qué la biblia nos da otra enseñanza de como fuimos creados.

TALLER CAPÍTULO 2: PLANETA TIERRA

1. Define los siguientes términos:

- ESTRELLA: Es una esfera de gas en un estado de equilibrio entre la gravedad que tiende a comprimirla y la presión del gas que tiende a que se expanda.
- ASTEROIDE: Es un cuerpo celeste rocoso más pequeño que un planeta enano y mayor que un meteorito.
- METEORITO: Son meteoroides que ingresan a través de la atmósfera y llegan al suelo terrestre.
- GALAXIA: Conjunto enorme de estrellas, polvo interestelar, gases y partículas, que constituyen un sistema autónomo dentro del universo.
- ROTACIÓN: Es uno de los movimientos de la Tierra que consiste en girar en torno a su propio eje.
- ÓRBITA: Trayectoria que describe un cuerpo alrededor de otro, bajo el influjo de la fuerza gravitatoria.
- SATÉLITE: Un satélite natural es un cuerpo celeste que orbita alrededor de un planeta.
- EQUINOCCIO: Son los momentos del año en los que el sol está situado en el plano del ecuador celeste.
- HUSO HORARIO: Es cada una de las franjas geográficas virtuales orientadas de norte a sur, limitadas por meridianos, igualmente espaciados en las que se divide un planeta y en las que suele regir una misma hora oficial.

TALLER CAPÍTULO 2: PLANETA TIERRA

2. Completa las siguientes frases:

- Las Galaxias son las agrupaciones de estrellas que forman el universo.
- El Sol es la estrella del Sistema Solar y está rodeado por planetas
- La galaxia en la que se encuentra la Tierra se llama: La vía Láctea
- Las estrellas se forman a partir de nubes de gas y de polvo

3. Relaciona los astros del Sistema Solar con sus características:

- | | |
|--------------|--|
| * Sol | Tienen una gran cola brillante |
| * Satélites | Emite luz y calor |
| * Asteroides | Giran alrededor del Sol |
| * Cometas | Giran alrededor de un planeta |
| * Planetas | Forman un cinturón entre Marte y Júpiter |

4. Contesta a las siguientes preguntas seleccionando la respuesta correcta:

1. ¿Cuántas fases tiene la Luna?

- a. Ocho
- b. Cuatro.
- c. Seis.

2. ¿Cuál de estas fases no pertenece al ciclo lunar?:

- a. Luna vieja.
- b. Luna nueva.
- c. Cuarto menguante.

3. El mes lunar tiene...

- a. Veinticuatro días.
- b. Veinte días.
- c. Veintiocho días.

4. La luz de la Luna se debe a...:

- a. El reflejo de la luz de la Tierra.
- b. El reflejo de la luz de un asteroide.
- c. El reflejo de la luz del Sol.

5. ¿Qué son los asteroides?

- a. Son estrellas fugaces.
- b. Son cuerpos compuestos de hielo.
- c. Son astros rocosos, más pequeños que los planetas, cuya órbita se sitúa entre Júpiter..

6. ¿Cuáles son los planetas gaseos

- a. La Tierra, Venus y Júpiter.
- b. Júpiter, Saturno, Urano y Neptuno.
- c. Solo Saturno.

TALLER CAPÍTULO 2: PLANETA TIERRA

7. ¿Qué diferencia hay entre un planeta y una estrella?

- a. La estrella es más grande.
- b. El planeta es el que proporciona el combustible a la estrella.
- c. La estrella emite luz propia.

8. ¿Cuál es el planeta más alejado del Sol?

- a. Plutón.
- b. No se puede saber con exactitud.
- c. En la actualidad Neptuno.

9. ¿En qué planeta dura más el día?

- a. Neptuno.
- b. Mercurio.
- c. Venus.

10. ¿En qué planeta hace más calor?

- a. En Venus.
- b. En Mercurio.
- c. En la Tierra.

8. ¿Qué planeta es el más grande?

- a. La Tierra.
- b. Júpiter.
- c. Saturno.

9. ¿Qué planeta tiene la montaña más del Sistema Solar?


- a. La Tierra. Es el Everest.
- b. Marte.
- c. La Luna.

10. ¿Qué planeta tarda menos en dar vuelta entera alrededor del Sol?

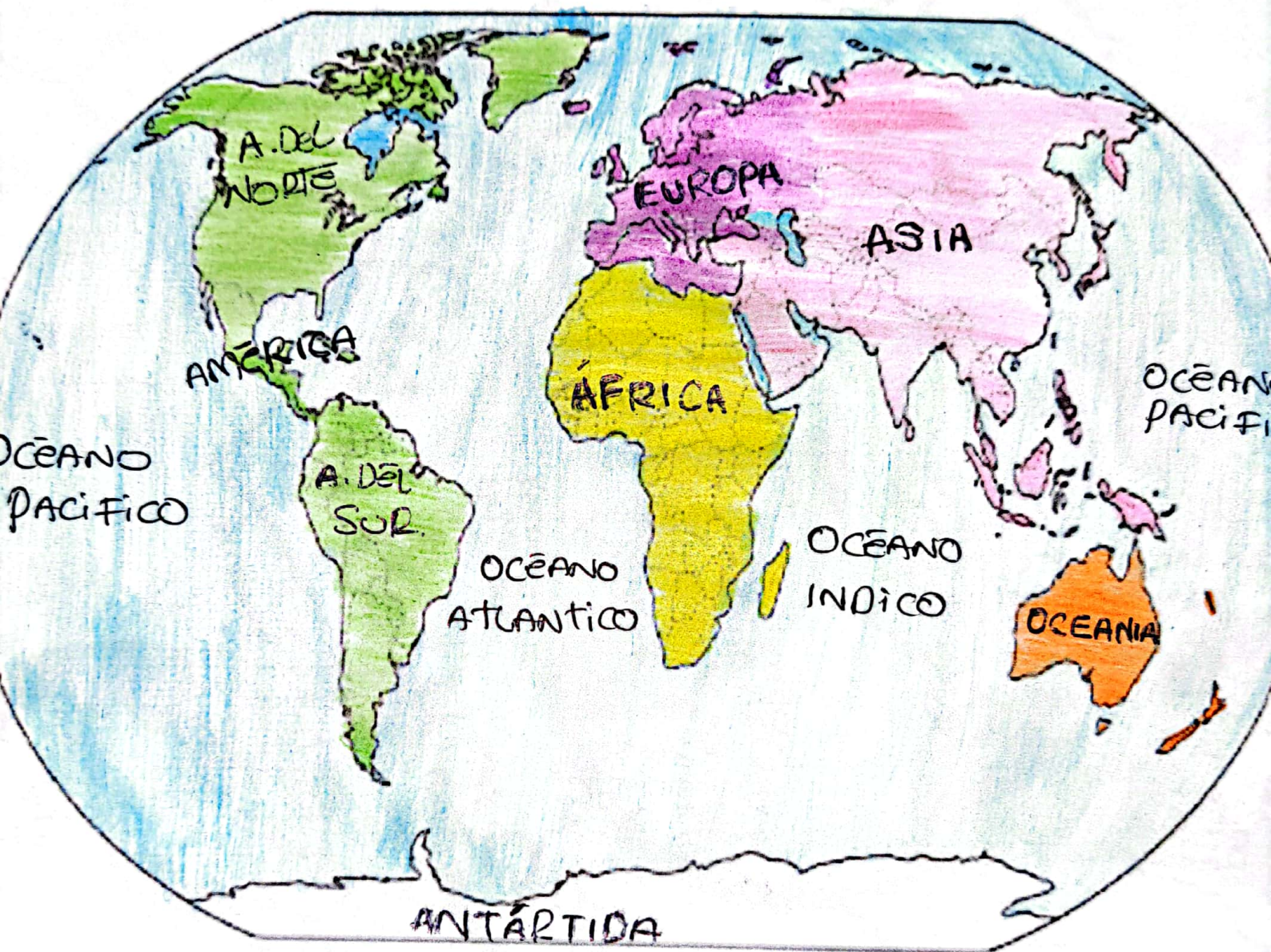
- a. La Tierra.
- b. Marte.
- c. Mercurio.

TALLER CAPÍTULO 2: PLANETA TIERRA

11. Coloca el nombre según corresponda.



1. Mercurio
2. Venus
3. Tierra
4. Marte
5. Júpiter
6. Saturno
7. Urano
8. Neptuno



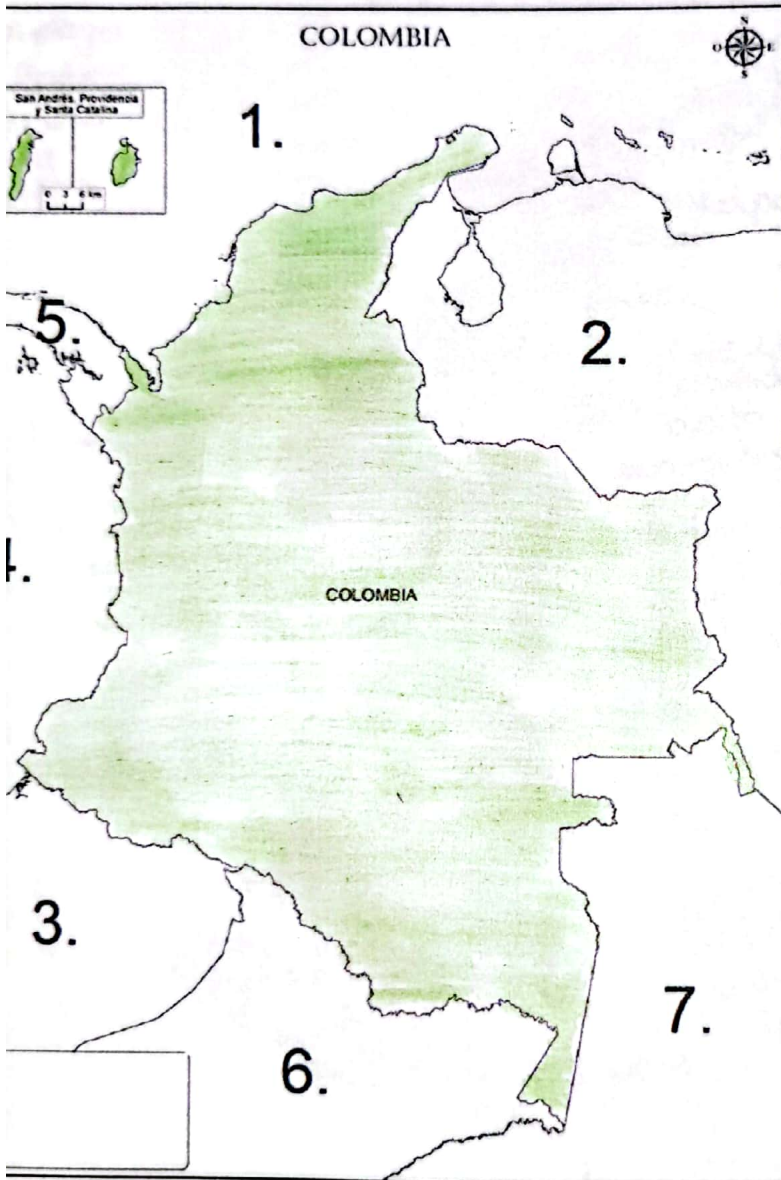
TALLER CAPÍTULO 3: LOS CONTINENTES

Colorea el mapa político de América ubicando los países con sus respectivas capitales.



TALLER CAPÍTULO 4: COLOMBIA

3. coloca los nombres de los límites de Colombia según corresponda.



1. Océano Atlántico

2. Venezuela

3. Ecuador

4. Océano Pacífico

5. Panamá

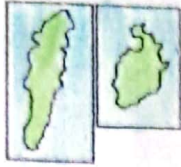
6. Perú

7. Brasil

TALLER CAPÍTULO 5: DIVISIÓN POLÍTICA DE COLOMBIA

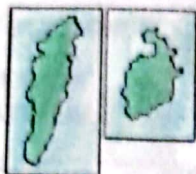
1. En el mapa de Colombia, colorea con un color diferente para cada región y coloca nombre de los departamentos con sus respectivas capitales.

Archipiélago
San Andrés
Providencia
Santa
Catalina.



TALLER CAPÍTULO 6: REGIONES NATURALES DE COLOMBIA

1. Colorea el mapa de Colombia, ubicando cada una de las regiones naturales.



TALLER CAPÍTULO 6:

REGIONES NATURALES DE COLOMBIA

2. Colombia posee seis regiones naturales con gran diversidad en el aspecto físico o relieve y economía. Completa en el cuaderno el siguiente cuadro con estos dos aspectos

REGIÓN NATURAL	ASPECTO FÍSICO O RELIEVE	ASPECTO ECONÓMICO
REG. CARIBE	Extensa llanura costera, con desierto al norte. En el relieve montañoso se destaca la Sierra nevada de Santa Marta y algunas serranías, clima tropical de sabana	En esta región la actividad económica se basa en la agricultura, la ganadería, la minería y el turismo.
REG. ANDINA	Esta formada por los tres cordilleras de los Andes. Comprende tanto las montañas como los valles interandinos del Magdalena y Cauca. Se caracteriza por su amplia diversidad climática por la altura sobre el mar.	Agricultura de frutas, flores, café, caña de azúcar, cacao, cereales y tubérculos, y ganadería de carne y leche. Se encuentran las principales industrias del país: de alimentos, minerales, textil y petroquímica.
REG. INSULAR	Es una región muy diversa ya que esta conformada por islas en los dos océanos. Comprende dos tipos de islas: continentales y oceánicas. Se caracteriza por sus periodos de clima seco y lluvia definidos.	La actividad económica de esta región esta basada en el turismo, complejos hoteleros, y el comercio.
REG. ORINOQUÍA	Sus límites: los ríos Arauca y Meta al norte, el río Orinoco al oriente, la cordillera Oriental al occidente y la región amazónica al sur.	Cultivo de arroz, sorgo, palma africana, yuca y plátano, pero sobre todo la actividad ganadera y la exploración petrolífera.
REG. PACÍFICA	Se localiza en occidente de Colombia con un área de 83.170 Km ² que abarca desde el golfo de Urabá en la frontera con Panamá.	La minería, pesca, explotación forestal. La agricultura y la ganadería se practican para el autoconsumo.
REG. AMAZÓNICA	Extensa llanura selvática, con gran diversidad de flora y fauna con altas temperaturas	La base de la economía de esta región es la agricultura, la ganadería y la pesca

TALLER CAPÍTULO 6:

REGIONES NATURALES DE COLOMBIA

3. RESPONDA LAS SIGUIENTES PREGUNTAS DE SELECCIÓN MÚLTIPLE CON ÚNICA RESPUESTA

a) Las regiones naturales de Colombia, presentan diversidad de riquezas, tales como el parque natural La Sierra de la Macarena, relieve aislado en esta inmensa llanura, (donde se ubica Caño Cristales) que ha sido declarado reserva nacional, además de los pozos petroleros Cusiana y Caño limón de acuerdo al texto estamos haciendo referencia a la región:

- A. caribe e Insular
- B. pacífica.
- ☒ C. Orinoquia.
- D. andina

b) El turismo es una fuente económica para la región caribe, sin embargo esta tiene que completarse con otras actividades porque:

- A. el turismo deja pocas ganancias para sus habitantes.
- ☒ B. hay épocas del año llamadas de temporada baja con pocos turistas.
- C. los turistas gastan poco dinero y no es suficiente para las ciudades costeras.
- D. es probable que el turismo se acabe porque hay sitios más llamativos.

c) Cada una de las regiones naturales de Colombia está conformada por departamentos los siguientes pertenecen a la región Andina

- A. Guajira, Córdoba, Cesar., Atlántico.
- B. Amazonas, Putumayo, Caquetá, Guaviare.
- C. Huila, Antioquia, Meta, Chocó.
- ☒ D. Santander, Huila, Tolima, Boyacá.

d) Las distintas formas del relieve colombiano, permiten que nuestro país tenga diversos climas y que los páramos en las altas montañas sean fábricas de agua, algunos de los más importantes son el páramo de Sumapaz y la Sierra Nevada del Cocuy que encuentran ubicadas en la región:

- A. caribe
- ☒ B. andina
- C. amazonia
- D. pacífica

TALLER CAPÍTULO 6:

REGIONES NATURALES DE COLOMBIA

e) Las minas de carbón, en el Cerrejón y sal en Manaure ubicadas en la alta Guajira (región caribe) aportan gran riqueza económica y proporcionan empleo para la población, con lo anterior se deduce que:

- A. En Colombia la economía se favorece por las minas de carbón
- B. que las minas de carbón generan desplazamiento de población
- C. que un país que no cuente con riquezas en minas es pobre.
- D. que un país necesita sólo de riqueza minera para su desarrollo

4. Investiga y completa el siguiente cuadro ubicando las regiones donde están localizadas cada una de las comunidades indígenas que existen en la actualidad en el país. Escribe tres comunidades en cada región:

REGIÓN GEOGRÁFICA	COMUNIDADES INDÍGENAS QUE LA HABITAN
Caribe	Arhuaco, wayuu, ñemba katio.
Pacífica	Los waunaan, Guambianos y los Tule.
Andina	Quechua, guaraní y ajmara.
Orinoquía	Kuikba, Sekuaní y Amorua.
Amazonía	ñemba, Macuna, Awa, Chami.
Insular	Kuna, wayúu y el Cuna.

TALLER CAPÍTULO

INVESTIGA.

1. Es una característica del siglo XX:
 - a. El feudalismo
 - ☒ b. El desbalance europeo
 - c. El absolutismo
 - d. La globalización.
2. Cual fue el escenario y el periodo que abarco la primera guerra mundial.
 - a. África 2000-2010
 - b. Oceanía 1800- 1804
 - ☒ c. Europa 1914-1918
 - d. América 1987-1900
3. Es una consecuencia de la primera guerra mundial...
 - a. Se dio la nacionalización de vehículos.
 - b. Se creó la carrera Armentista.
 - ☒ c. Desaparecieron los imperios alemanes; austrohúngaro; Imperio otomano y ruso.
 - d. Desaparecieron los imperios españoles.
4. Doctrina política y económica que propugna la propiedad y la administración de los medios de producción por parte de las clases trabajadoras con el fin de lograr una organización de la sociedad en la cual exista una igualdad política, social y económica de todas las personas.
 - ☒ a. Socialismo
 - b. Absolutismo
 - c. Capitalismo
 - d. Presidencialismo
5. Cuando se llevó a cabo la Revolución Rusa:
 - ☒ a. 1917
 - b. 1942
 - c. 1936
 - d. 1918